

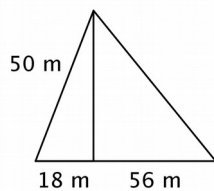
Nombre y Apellidos:

Grupo:

Fecha:

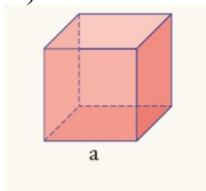
Indic.	23	25
Act.	4, 5	1, 2, 3, 4, 6, 7
Nota		

- El perímetro de la base de un cubo es 84 cm. Halla su área y su volumen.
- Calcula el área y el volumen de un ortoedro de aristas:
  - 2m, 4m y 8m.
  - 3m, 5m y 9m.
- Calcula el volumen de un cono de altura 36 cm y diámetro de la base  $\frac{2}{3}$  de la altura.
- La arista de la base de una pirámide triangular mide 15 cm y la altura de la pirámide es 10 cm. Calcula su volumen.
- Calcula el área del siguiente triángulo:

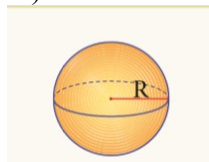


- Escribe el nombre de cada dibujo:

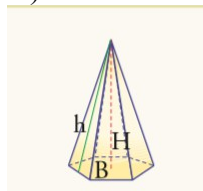
a)



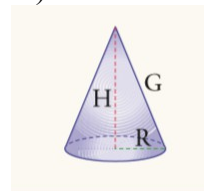
b)



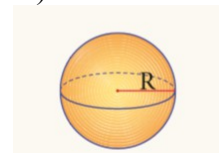
c)



d)



e)



- Calcula el área de la base de un cilindro de altura 8cm sabiendo que ocupa el mismo volumen que un cubo de arista 6cm.